

Namn:

1 Fortsätt talmönstret.

46, 47, 48, _____ , _____ , _____

2 Fortsätt talmönstret.

64, 63, 62, _____ , _____ , _____

3 Fortsätt talmönstret.

96, 97, 98, _____ , _____ , _____

4 Fortsätt talmönstret.

11, 13, 15, _____ , _____ , _____

5 Fortsätt talmönstret.

24, 26, 28, _____ , _____ , _____

6 Fortsätt talmönstret.

25, 30, 35, _____ , _____ , _____

7 Josef har skrivit hur många böcker han har lånat:

15

Siffran 5 i talet 15 betyder ____ stycken.


Siffran 1 i talet 15 betyder ____ stycken.

8 Använd alla de fyra siffrorna 4, 7, 3, 9 för att göra två tal mellan femtio och etthundra.

9 Vilket tal kommer närmast före trehundra?

10 Oscar föddes 2009. Vilket år fyller han hundra år?

11 Ungefär vilket tal pekar pilen på?



12 Reza hade åtta kronor. När han hade köpt godis hade han tre kronor kvar. Vilket uttryck visar hur mycket han hade handlat för? Gör en ring runt det!

$8 + 3$

$3 + 8$


$8 - 3$

$8 + 5$


13 Skriv en kort räknehändelse som passar till:

$$13 - 7 = 6$$

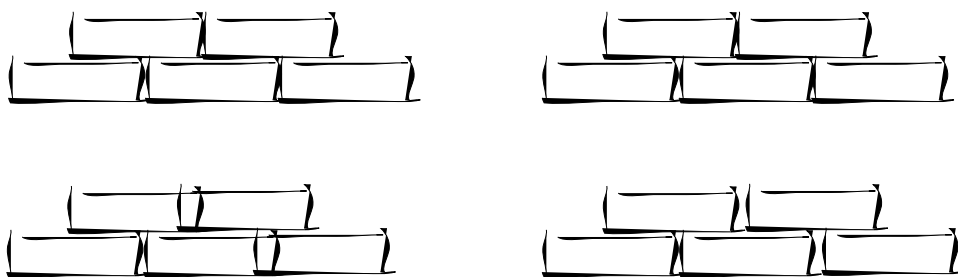
14 Jim har ställt kulpåsar på vågen. På tre av påsarna är antalet kulor skrivet. Hur många kulor är det i den fjärde?



- 15 Skriv en multiplikation som visar hur många pennor det finns på bilden.



- 16 Manja har lagt tegelstenar i högar.
Hur många högar med 5 i varje har hon lagt?



- 17 Spindlar har åtta ben. Vilket uttryck talar om hur många ben fem spindlar har?
Ringa in det.

$5 + 8$

$8 - 5$

$5 \cdot 8$

$5 + 5 + 5 + 5 + 5$

Använd huvudräkning när du löser uppgifterna som din lärare säger. Skriv bara svaret.

18 Svar:

19 Svar:

20 Svar:

21 Svar:

22 Svar:

23 Svar:

24 Svar:

25 Svar:

26 Svar:

Lös följande uppgifter. Visa hur du räknar.

27 $43 + 24$

28 $57 + 68$

29 $172 - 54$